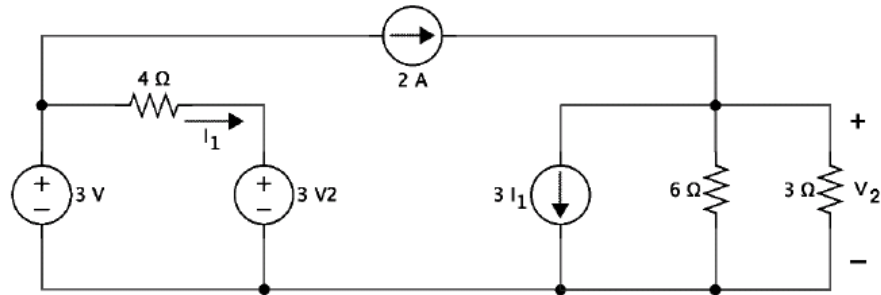
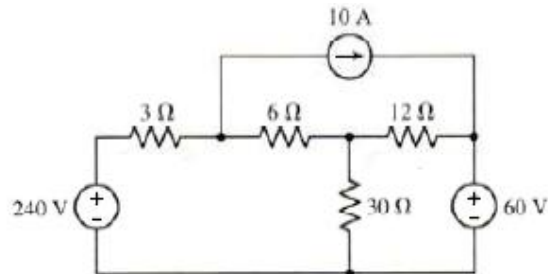


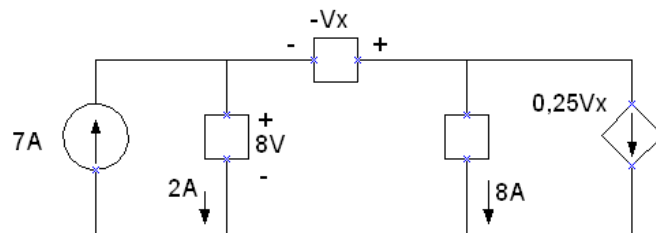
1. En el siguiente circuito, halle I_1 y V_2 .



2. En el siguiente circuito halle la potencia consumida por la resistencia de 30Ω y la fuente de corriente de 10A.



3. En siguiente circuito realice el balance de energía



4. Halle la resistencia Req

